




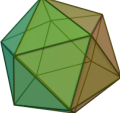
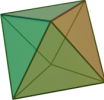


# Ο τύπος του Euler

Συμπληρώστε τον πιο κάτω πίνακα

Τι παρατηρείτε;

Στερεό		Κορυφές Κ	Έδρες Ε	Ακμές Α	Κ+Ε- Α
Κύβος					
Ορθογώνιο παραλληλεπίπεδο					
Τετράεδρο					
Τετραγωνική πυραμίδα					
Εξαγωνικό πρίσμα					
Εικοσάεδρο					
Οκτάεδρο					
Δωδεκάεδρο	